

Ecris dans l'ordre la date du jour grâce aux mots ci-dessous

Mars – 2020 – 26 – Jeudi

.....

MATHEMATIQUES

Calculs en lignes :

$1 + 5 = \dots\dots$

$2 + 4 = \dots\dots$

$3 + 2 = \dots\dots$

$8 + 1 = \dots\dots$

$1 + 6 = \dots\dots$

Calculs posés

$13 + 25 = \dots\dots$

$42 + 37 = \dots\dots$

$28 + 41 = \dots\dots$

Complète cette suite de nombres :

		3						9	
11						17			

Ecris <

$43 \dots\dots 49$

$34 \dots\dots 21$


$49 \dots\dots 48$

$47 \dots\dots 49$

$27 \dots\dots 30$

$12 \dots\dots 10$

Relis les points dans l'ordre :



FRANÇAIS



Regarde et décris l'image puis lis le texte sous l'image.

ratus



ratus a une moto.
il est dans la rue.
il a vu belo.

Entraînes-toi à lire les syllabes suivantes.

u qui chante  comme dans 	bu	cu	su	ru	mu
	tu	du	nu	lu	ru
	ru	pu	fu	vu	nu
	ku	vu	gu	tu	cu
	su	bu	zu	ju	lu

Ecris dans l'ordre la date du jour grâce aux mots ci-dessous

27 - Mars – Vendredi - 2020

.....

MATHEMATIQUES

Calculs en lignes :

$1 + 25 = \dots\dots$

$2 + 46 = \dots\dots$

$3 + 21 = \dots\dots$

$8 + 10 = \dots\dots$

$1 + 62 = \dots\dots$

Calculs posés

$52 + 13 = \dots\dots$

$15 + 26 = \dots\dots$

$21 + 32 = \dots\dots$

Complète cette suite de nombres :

	21						27		
		32						38	

Ecris < ou >

$15 \dots\dots 23$

$21 \dots\dots 22$

$32 \dots\dots 33$

$22 \dots\dots 21$

$25 \dots\dots 45$

$75 \dots\dots 77$

FRANÇAIS

Lis les phrases suivantes :

- 1) Belo est un chat.
- 2) Ratus a vu Belo.
- 3) Belo a une moto.
- 4) Marou est ami avec Belo.
- 5) Belo est dans la rue. Il a une moto.
- 6) Mina a vu Ratus avec Belo dans la rue.

ECRITURE

Réécris les phrases précédentes en t'appliquant.

1) -----

2) -----

3) -----






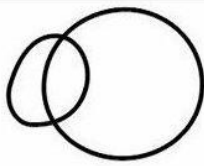
4) -----

5) -----


6) -----

ART PLASTIQUE

Apprends à dessiner un mouton en suivant les étapes suivantes



A toi de jouer !



Ecris dans l'ordre la date du jour grâce aux mots ci-dessous

2020 - 30 - Lundi - Mars

.....

MATHEMATIQUES

Calculs en lignes :

$11 + 5 = \dots\dots$

$20 + 4 = \dots\dots$

$30 + 2 = \dots\dots$

$18 + 1 = \dots\dots$

$12 + 6 = \dots\dots$

Calculs posés : pose et calcule les opérations suivantes :

$31 + 52 = \dots\dots$

$24 + 73 = \dots\dots$

$82 + 14 = \dots\dots$

Complète cette suite de nombres :

		42			45				
		52				56			

Ecris < ou >

$17 \dots\dots 21$

$27 \dots\dots 25$

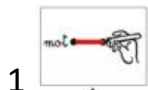
$31 \dots\dots 37$

$20 \dots\dots 21$

$23 \dots\dots 24$

$15 \dots\dots 17$

FRANÇAIS



1 Relie le mot à son image.



belo
mina
marou
ratus
moto
gros
rat
vélo
chat
rue



2. Entoure les u.

rue
VELO
pré
ratus

pré
RATUS
rue
moto

vu
UNE
une
rue

moto
PRE
vu
vélo



3 Entoure le mot encadré chaque fois que tu le vois.

rue rue ure eru rue eur rue reu ure

la la al lo la ol al la la

est est ste ets est tse set est ets

MUSIQUE

Révisé en lisant cette chanson que tu connais par cœur :



On écrit sur les murs

On écrit sur les murs le nom de ceux qu'on aime
Des messages pour les jours à venir
On écrit sur les murs à l'encre de nos veines
On dessine tout c'que l'on voudrait dire

Partout, autour de nous
Y a des signes d'espoir dans les regards
Donnons leur écrit
Car dans la nuit
Tout s'efface
Même leurs traces

*On écrit sur les murs le nom de ceux qu'on aime
Des messages pour les jours à venir
On écrit sur les murs à l'encre de nos veines
On dessine tout c'que l'on voudrait dire
On écrit sur les murs la force de nos rêves
Nos espoirs, en forme de graffitis
On écrit sur les murs pour que l'amour se lève
Un beau jour, sur le monde endormi*

Des mots, seulement gravés
Pour ne pas oublier, pour tout changer
Mélangeons demain, dans un refrain
Nos visages
Métissage

*On écrit sur les murs le nom de ceux qu'on aime
Des messages pour les jours à venir
On écrit sur les murs à l'encre de nos veines
On dessine tout c'que l'on voudrait dire
On écrit sur les murs la force de nos rêves
Nos espoirs, en forme de graffitis
On écrit sur les murs pour que l'amour se lève
Un beau jour, sur le monde endormi*

*On écrit sur les murs le nom de ceux qu'on aime
Des messages, pour les jours à venir
On écrit sur les murs à l'encre de nos veines
On dessine, tout c'que l'on voudrait dire*

*On écrit sur les murs le nom de ceux qu'on aime
Des messages, pour les jours à venir
On écrit sur les murs à l'encre de nos veines
On dessine, tout c'que l'on voudrait dire
On écrit sur les murs la force de nos rêves
Nos espoirs, en forme de graffitis
On écrit sur les murs pour que l'amour se lève
Un beau jour, sur le monde endormi
Un beau jour, sur le monde endormi*

Ecris dans l'ordre la date du jour grâce aux mots ci-dessous

-31 – 2020 - Mars – Mardi

.....

MATHEMATIQUES

Calculs en lignes :

$20 + 10 = \dots\dots$

$10 + 10 = \dots\dots$

$30 + 20 = \dots\dots$

$80 + 10 = \dots\dots$

$10 + 6 = \dots\dots$

Complète avec le nombre juste avant et le nombre juste après :

$\dots < 69 < \dots$

$\dots < 63 < \dots$

$\dots < 89 < \dots$

$\dots < 90 < \dots$

$\dots < 70 < \dots$



Les angles droits

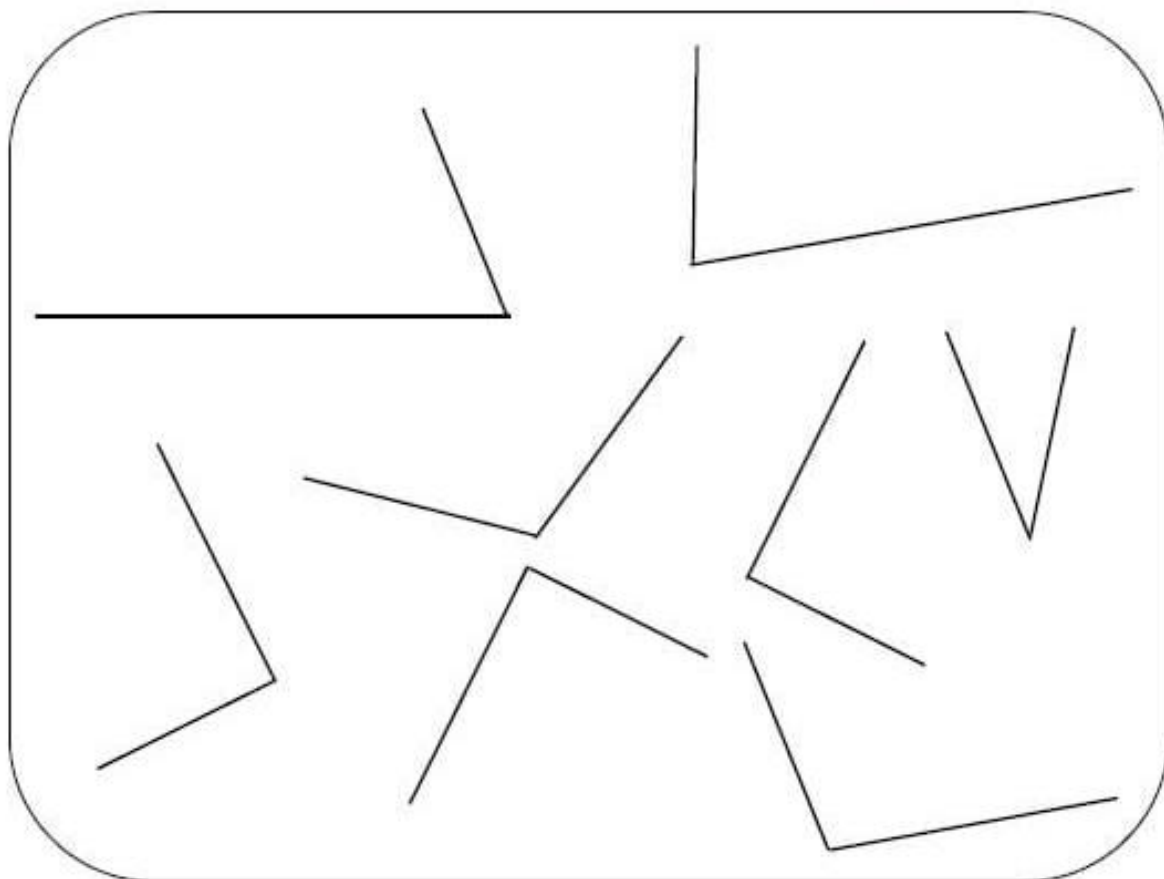
Géométrie

1 Colorie l'outil nécessaire pour mesurer un angle droit.



- Comment s'appelle cet objet ?
- Entoure l'angle droit sur cet objet.

2 Cherche tous les angles droits et marque-les à l'aide du symbole **L**



FRANCAIS



1

Barre les phrases fausses.



Belo a une moto.


Ratus a une moto.

Ratus est dans la rue.

Ratus est dans le pré.

Ratus a vu Belo.

Le rat a vu le gros chat.



2.

Complète la phrase avec les mots des étiquettes.

rue Belo

Ratus est dans la Il a vu

.....

Ecris dans l'ordre la date du jour grâce aux mots ci-dessous

1 -Mercredi – 2020 - Avril

.....
MATHEMATIQUES

Calculs en lignes :

$12 + 5 = \dots\dots$

$5 + 4 = \dots\dots$

$13 + 2 = \dots\dots$

$4 + 1 = \dots\dots$

$4 + 6 = \dots\dots$

Complète avec le nombre juste avant et le nombre juste après :

$\dots < 54 < \dots$

$\dots < 80 < \dots$

$\dots < 51 < \dots$

$\dots < 78 < \dots$

$\dots < 64 < \dots$

Résolution de problèmes :

Combien Zoé a-t-elle d'animaux en tout ?

« J'ai **31** oiseaux et **4** tortues ! »

Zoé a Animaux en tout.

Combien Mina a de fleurs au total ?





« J'ai **43** fleurs jaunes et **25** fleurs rouges. »

Mina a fleurs au total.

FRANÇAIS







Entoure les mots de la liste.

 chat	dans	le	 ratus
vu	la	 moto	 rue

l	e	c	g	u	z	r	u	e
q	j	r	a	t	u	s	m	l
j	k	s	v	t	z	h	k	y
g	b	e	u	v	u	p	t	v
b	l	a	c	g	e	d	x	w
c	h	a	t	t	z	f	g	h
z	u	c	z	h	s	a	a	o
s	t	h	m	m	o	t	o	g
e	g	a	t	d	a	n	s	j

ORAL

Avec l'aide d'un référent, décris les images et réponds aux questions suivantes :



1° Qui sont les personnages de cette histoire ?

2° Où se passe la scène ?

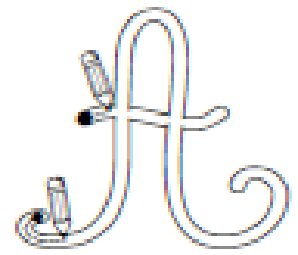
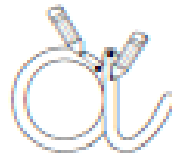
3° Que se passe-t-il ?

4° A ton avis où sont partis les trois animaux après la bagarre ?

Copie les lettres, mots et phrases ci-dessous :

ECRITURE

Lettre A



a

a

avocat

A

A

Allemagne

Ambre et Alice partent en Amérique demain.

.