

Prénom :

Date :

Les nombres de 1 à 99



1 Complète les cases grises des suites de nombres.

| | | | | | | | | | | | | | |
|----|----|----|--|--|----|--|--|----|--|--|----|--|--|
| 41 | | | | | 47 | | | | | | | | |
| | | 75 | | | | | | | | | 85 | | |
| | 63 | | | | | | | 71 | | | | | |

2 Colorie les nombres identiques de la même couleur.

79

95

51

63

cinquante et un

soixante-dix-neuf

quatre-vingt-quinze

soixante-trois

3 Compare en utilisant les signes $<$, $>$ ou $=$

| | | | | | | | | |
|--------|------|----|--------|------|----|----------|------|----|
| 35 | | 45 | 61 | | 16 | $30 + 1$ | | 31 |
| 92 | | 35 | 48 | | 8 | 72 | | 92 |
| $10+9$ | | 16 | $20+3$ | | 89 | $24+5$ | | 22 |
| $3+5$ | | 8 | 7 | | 67 | 77 | | 67 |

Prénom :

Date :

Les nombres de 1 à 99



1 Dictée de nombres.

| | | | | | | |
|--|--|--|--|--|--|--|
| | | | | | | |
|--|--|--|--|--|--|--|

2 Écris les nombres en chiffres.

trente-six

quatorze

soixante-douze

quatre-vingt-quatre

soixante-six

3 Écris les nombres en lettres.

11 :

77 :

46 :

99 :

35 :

4 Compare les nombres en utilisant les signes $<$, $>$ et $=$

| | | | | | |
|-------|------|---------|-----------|------|---------|
| 77 | | 60 | | | |
| 30+48 | | 68 | 25 | | 10+10+5 |
| 54 | | 45 | 10+10+5+2 | | 29 |
| 46 | | 20+20+6 | | | |

Prénom :

Date :

Les nombres de 1 à 99



1 Complète le tableau.

| | |
|----|-------------------|
| 45 | |
| 77 | |
| | quatre-vingt onze |
| | quatre-vingt-cinq |
| 57 | |
| | soixante-huit |

2 Range les nombres du plus petit au plus grand.

78 – 28 – 40 – 82 – 65 – 85 – 55 – 95

.....

3 Range les nombres du plus grand au plus petit.

18 – 74 – 83 – 64 – 99 – 46 – 69 – 9

.....

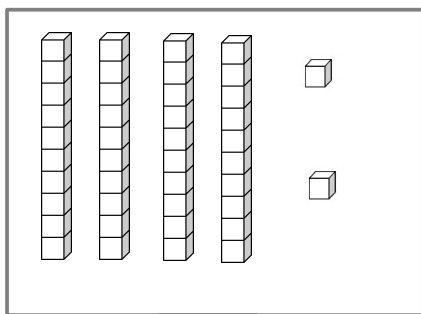
Prénom :

Date :

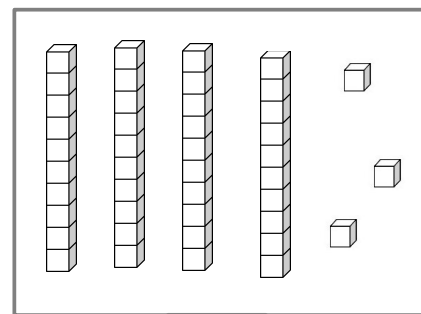
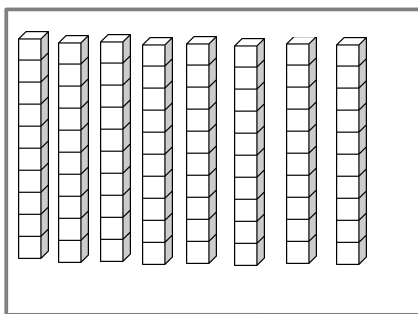
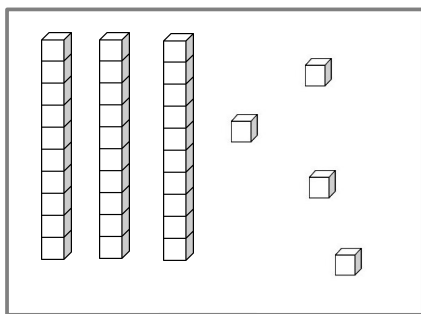
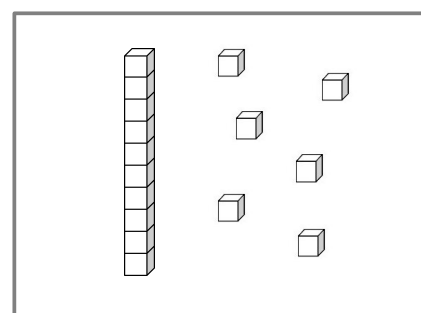
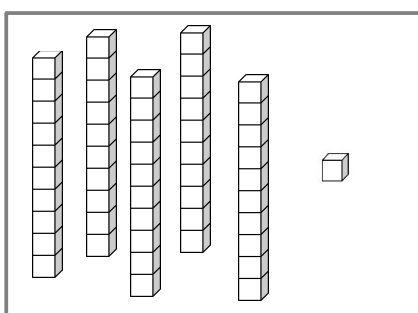
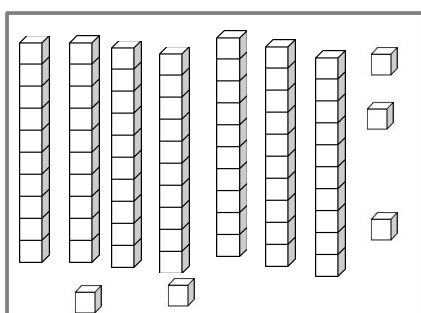
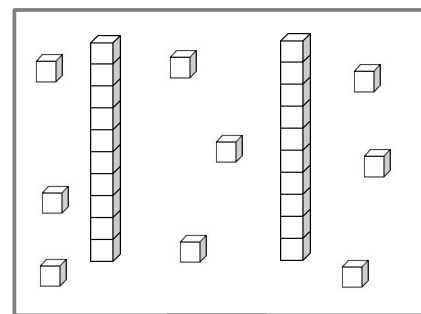
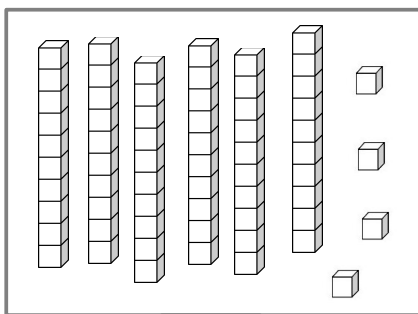
Les nombres de 1 à 99



1 Complète.



42



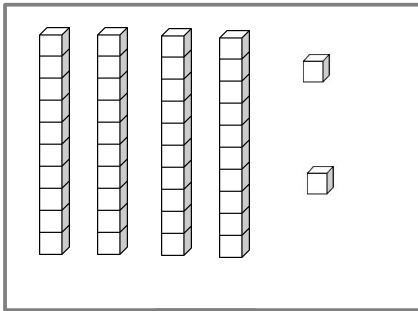
Prénom :

Date :

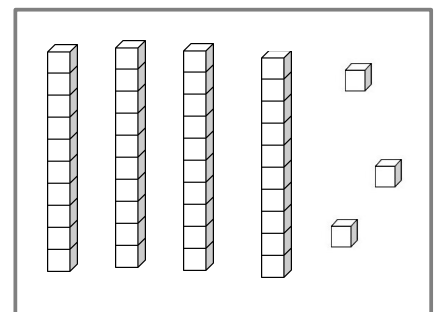
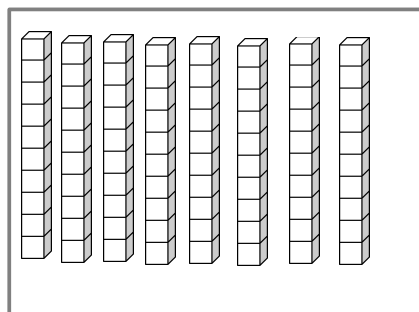
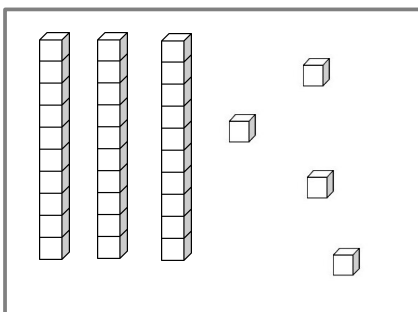
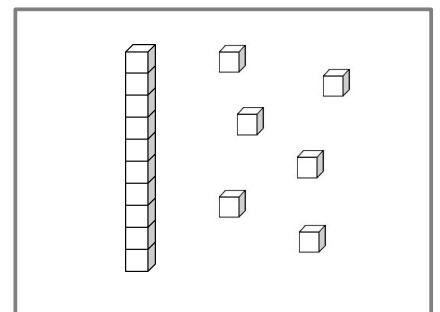
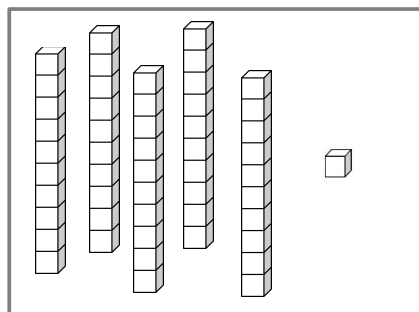
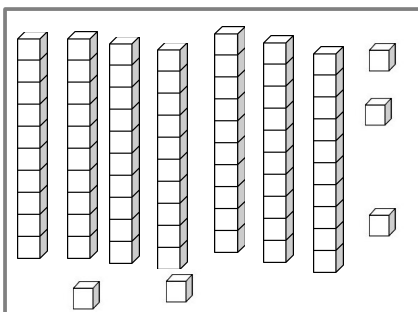
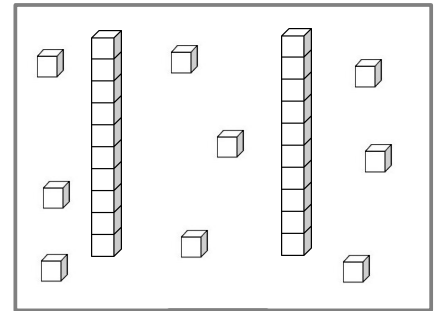
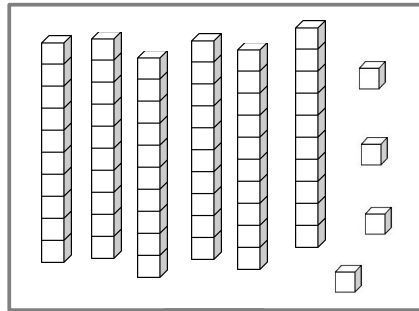
Les nombres de 1 à 99



1 Complète.



42



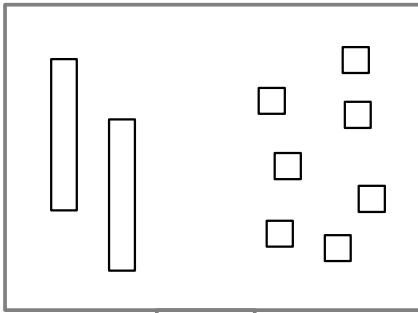
Prénom :

Date :

Les nombres de 1 à 99




1 Représente le nombre donné comme dans l'exemple .



27



93



60



45



74



51



82



59



32

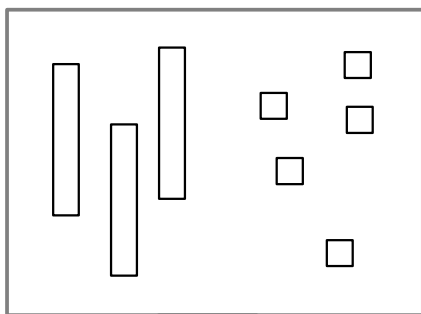
Prénom :

Date :

Les nombres de 1 à 99



1 Représente le nombre donné comme dans l'exemple.



35



72



56



91



48



29



64



37



83

Prénom :

Date :

Les nombres de 1 à 99



1 Décompose.

| | |
|------------|------------|
| 31 = | 79 = |
| 97 = | 42 = |
| 53 = | 95 = |
| 69 = | 26 = |
| 74 = | 88 = |

2 Complète le tableau.

| | | |
|-------|------------------|-------------------------|
| | quatre-vingt-un | |
| 59 | | |
| 42 | | $10 + 10 + 10 + 10 + 2$ |
| | soixante-sept | |
| 38 | | $10 + 10 + 10 + 8$ |
| 93 | | |
| | | $10 + 10 + 4$ |
| 75 | | |
| | quatre-vingt-six | |
| 99 | | |

Prénom :

Date :

Les nombres de 1 à 99



1 Complète les tableaux.

| | |
|-------|------------------------|
| 54 | 5 dizaines et 4 unités |
| 36 | |
| 73 | |
| | 6 dizaines et 5 unités |
| 41 | |
| | 4 unités et 8 dizaines |

| | |
|-------|------------------------|
| | 9 dizaines et 6 unités |
| 81 | |
| | 2 unités et 5 dizaines |
| 68 | |
| | 3 dizaines et 7 unités |
| 79 | |

2 Trouve le nombre mystère.

*Le nombre mystère est plus grand que 34
et plus petit que 49.
Son chiffre des unités est 2.
Qui est-il ?*



*Le nombre mystère est plus petit que 69.
La somme de ses chiffres est égale à 9 et
Le chiffre des unités est 3.
Qui est-il ?*